

Der Zahlenraum bis 6

– Addition –

Schreibe die **Würfelaufgabe** auf!

Schreibe die Reichenzeichen nach (+, =)!

Addiere die beiden Zahlen (die Summanden)!

Schreibe das Ergebnis (die Summe) auf!

Male in dem rechten Würfel die dem Ergebnis entsprechende Punktzahl an.

	+		<input type="text"/> + <input type="text"/> = <input type="text"/>	
	+		<input type="text"/> + <input type="text"/> = <input type="text"/>	
	+		<input type="text"/> + <input type="text"/> = <input type="text"/>	
	+		<input type="text"/> + <input type="text"/> = <input type="text"/>	
	+		<input type="text"/> + <input type="text"/> = <input type="text"/>	
	+		<input type="text"/> + <input type="text"/> = <input type="text"/>	
	+		<input type="text"/> + <input type="text"/> = <input type="text"/>	
	+		<input type="text"/> + <input type="text"/> = <input type="text"/>	

Der Zahlenraum bis 6

– Addition –

Schreibe die **Würfelaufgabe** auf!

Schreibe die Reichenzeichen nach (+, =)!

Addiere die beiden Zahlen (die Summanden)!

Schreibe das Ergebnis (die Summe) auf!

Male in dem rechten Würfel die dem Ergebnis entsprechende Punktzahl an.

	+		<input type="text"/> + <input type="text"/> = <input type="text"/>	
	+		<input type="text"/> + <input type="text"/> = <input type="text"/>	
	+		<input type="text"/> + <input type="text"/> = <input type="text"/>	
	+	<input type="text"/>	<input type="text"/> + <input type="text"/> = <input type="text"/>	
	+		<input type="text"/> + <input type="text"/> = <input type="text"/>	
	+		<input type="text"/> + <input type="text"/> = <input type="text"/>	
	+		<input type="text"/> + <input type="text"/> = <input type="text"/>	
	+	<input type="text"/>	<input type="text"/> + <input type="text"/> = <input type="text"/>	

Der Zahlenraum bis 6

– Addition –

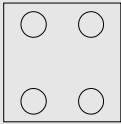

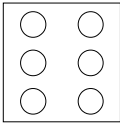
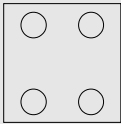
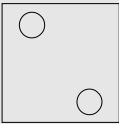
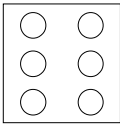
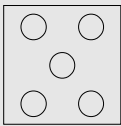

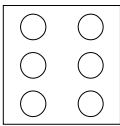
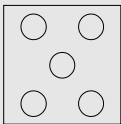
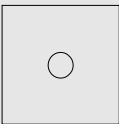
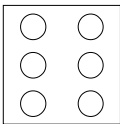


Schreibe die **Würfelaufgabe** auf!

Schreibe die Reichenzeichen nach (+, =)!

Addiere die beiden Zahlen (die Summanden)!

Schreibe das Ergebnis (die Summe) auf!

Male in dem rechten Würfel die dem Ergebnis entsprechende Punktzahl an.

	+		<input type="text"/> + <input type="text"/> = <input type="text"/>	
	+		<input type="text"/> + <input type="text"/> = <input type="text"/>	
	+		<input type="text"/> + <input type="text"/> = <input type="text"/>	
	+		<input type="text"/> + <input type="text"/> = <input type="text"/>	
	+		<input type="text"/> + <input type="text"/> = <input type="text"/>	