

Der Zahlenraum bis 10

– Addition mit 1 –

Schreibe die Aufgabe auf! Schreibe die Reichenzeichen nach (+, =)!

Addiere die beiden Zahlen (die Summanden)! Schreibe das Ergebnis (die Summe) auf!

	+		
	+		
	+		
	+		
	+		
	+		
	+		
	+		
	+		
	+		

Der Zahlenraum bis 10

– Addition mit 2 (plus Extraaufgabe) –

Schreibe die Aufgabe auf! Schreibe die Reichenzeichen nach (+, =)!

Addiere die beiden Zahlen (die Summanden)! Schreibe das Ergebnis (die Summe) auf!

	+				+			
	+				+			
	+				+			
	+				+			
	+				+			
	+				+			
	+				+			
	+				+			
	+				+			
	+				+			

Der Zahlenraum bis 10

– Addition mit 3 (plus Extraaufgaben) –

Schreibe die Aufgabe auf! Schreibe die Reichenzeichen nach (+, =)!

Addiere die beiden Zahlen (die Summanden)! Schreibe das Ergebnis (die Summe) auf!

	+				+		⋮	
	+				+		⋮	
	+				+		⋮	
	+				+		⋮	
	+				+		⋮	
	+				+		⋮	
	+				+		⋮	
	+				+		⋮	
	+				+		⋮	
	+				+		⋮	

Der Zahlenraum bis 10

– Addition mit 4 (plus Extraaufgaben) –

Schreibe die Aufgabe auf! Schreibe die Reichenzeichen nach (+, =)!

Addiere die beiden Zahlen (die Summanden)! Schreibe das Ergebnis (die Summe) auf!

	+				
	+				
	+				
	+				
	+				
	+				
	+				
	+				
	+				
	+				

Der Zahlenraum bis 10

– Addition mit 5 (plus Extraaufgaben) –

Schreibe die Aufgabe auf! Schreibe die Reichenzeichen nach (+, =)!

Addiere die beiden Zahlen (die Summanden)! Schreibe das Ergebnis (die Summe) auf!

	+		
	+		
	+		
	+		
	+		
	+		
	+		
	+		
	+		
	+		

Der Zahlenraum bis 10

– Addition mit 6 (plus Extraaufgaben) –

Schreibe die Aufgabe auf! Schreibe die Reichenzeichen nach (+, =)!

Addiere die beiden Zahlen (die Summanden)! Schreibe das Ergebnis (die Summe) auf!

	+		
	+		
	+		
	+		
	+		
	+		
	+		
	+		
	+		
	+		

Der Zahlenraum bis 10

– Addition mit 7 (plus Extraaufgaben) –

Schreibe die Aufgabe auf! Schreibe die Reichenzeichen nach (+, =)!

Addiere die beiden Zahlen (die Summanden)! Schreibe das Ergebnis (die Summe) auf!

	+				
	+				
	+				
	+				
	+				
	+				
	+				
	+				
	+				
	+				

Der Zahlenraum bis 10

– Addition mit 8 (plus Extraaufgaben) –

Schreibe die Aufgabe auf! Schreibe die Reichenzeichen nach (+, =)!

Addiere die beiden Zahlen (die Summanden)! Schreibe das Ergebnis (die Summe) auf!

	+		
	+		
	+		
	+		
	+		
	+		
	+		
	+		
	+		
	+		

Der Zahlenraum bis 10

– Addition mit 9 (plus Extraaufgaben) –

Schreibe die Aufgabe auf! Schreibe die Reichenzeichen nach (+, =)!

Addiere die beiden Zahlen (die Summanden)! Schreibe das Ergebnis (die Summe) auf!


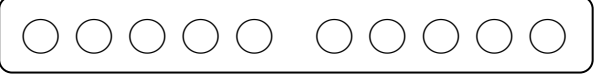


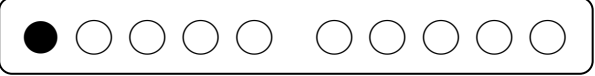


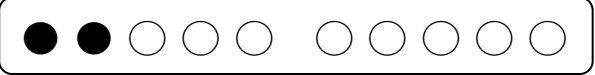


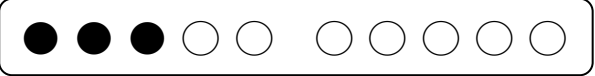










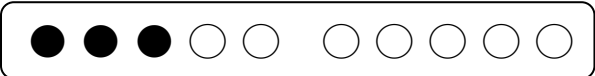


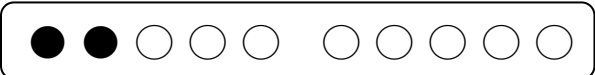


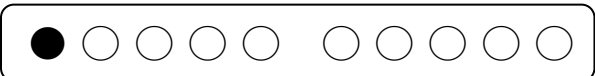


	+			+		=	
	+			+		=	
	+			+		=	
	+			+		=	
	+			+		=	
	+			+		=	
	+			+		=	
	+			+		=	
	+			+		=	
	+			+		=	

Der Zahlenraum bis 10

– Addition mit 10 (plus Extraaufgaben) –

Schreibe die Aufgabe auf! Schreibe die Reichenzeichen nach (+, =)!

Addiere die beiden Zahlen (die Summanden)! Schreibe das Ergebnis (die Summe) auf!

	+			
	+			
	+			
	+			
	+			
	+			
	+			
	+			
	+			
	+			

Der Zahlenraum bis 10

– Detektivaufgaben –

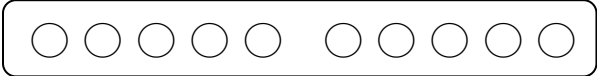
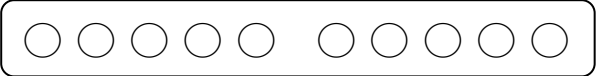


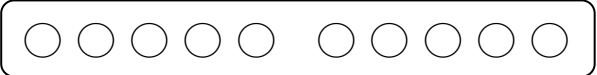


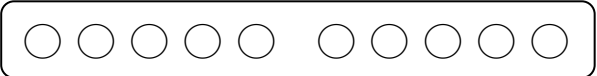


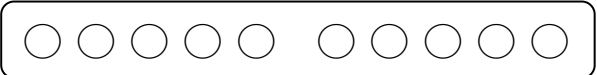

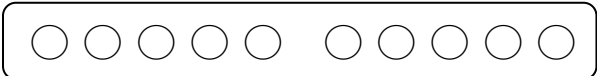
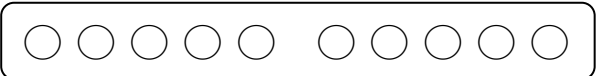

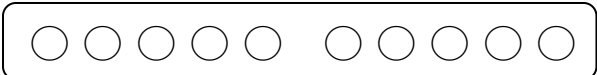
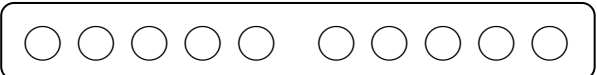

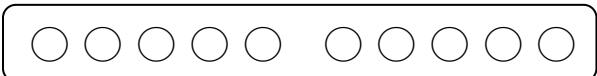
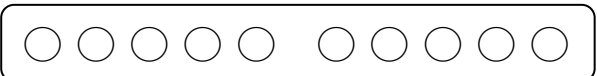

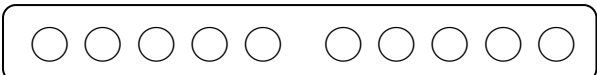
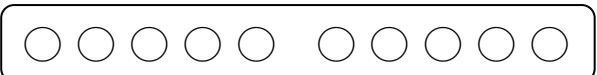

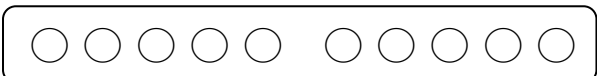
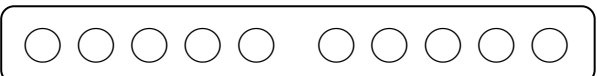

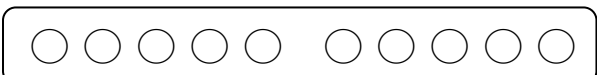
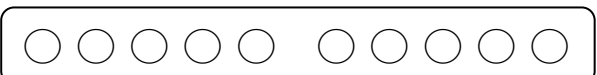

Auf der letzten Seite („Addition mit 10“) hast Du gesehen, dass es verschiedene Aufgaben gibt, bei denen die Summe „10“ ergibt. Finde auf den vorherigen Seiten Aufgaben, die ebenfalls das gleiche Ergebnis haben (außer „10“). Beginne mit der Suche auf der ersten Seite! Male auch die Punkte an (links = rot, rechts = blau)! 3 Aufgaben mit „3“, 4 mit „4“, 5 mit „5“, 6 mit „6“, 7 mit „7“, 8 mit „8“ und 9 mit „9“

	+		$\square 1 + \square 1 = \square 2$
	+		$\square 2 + \square 0 = \square 2$
	+		$\square \square + \square \square = \square \square$
	+		$\square \square + \square \square = \square \square$
	+		$\square \square + \square \square = \square \square$
	+		$\square \square + \square \square = \square \square$
	+		$\square \square + \square \square = \square \square$
	+		$\square \square + \square \square = \square \square$
	+		$\square \square + \square \square = \square \square$
	+		$\square \square + \square \square = \square \square$

Der Zahlenraum bis 10

– Detektivaufgaben –

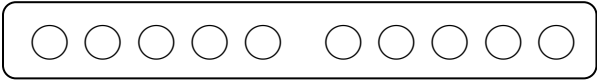
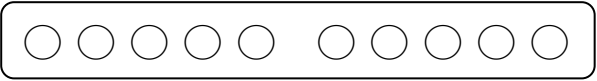



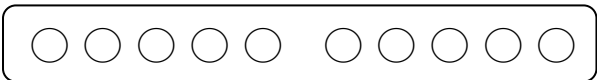
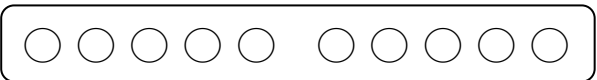



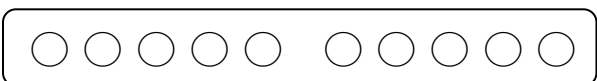
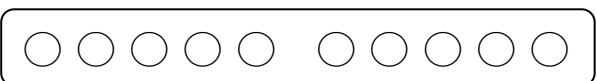



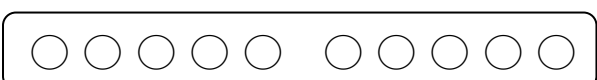
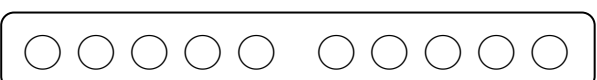



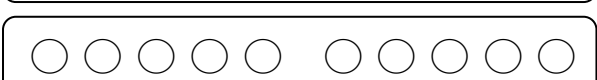
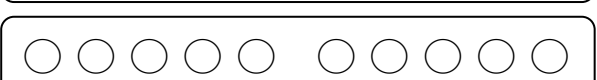



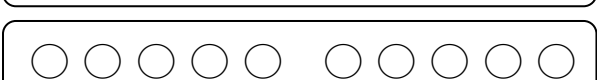
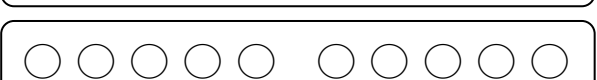



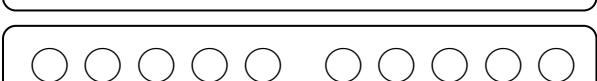
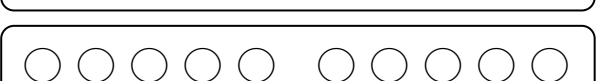



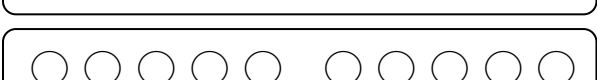














Hier ist noch Platz für weitere Aufgaben ...

	+		
	+		
	+		
	+		
	+		
	+		
	+		
	+		
	+		
	+		

Der Zahlenraum bis 10

– Detektivaufgaben –

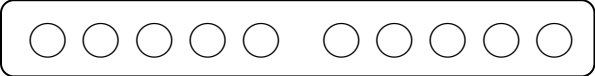
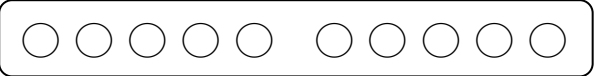






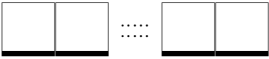




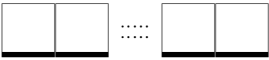


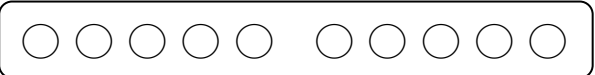



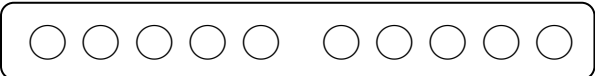
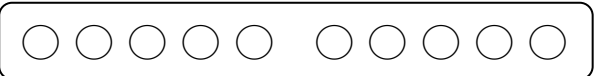



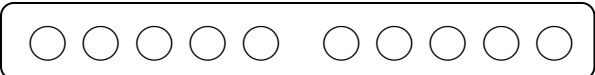
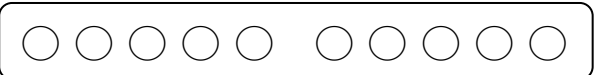



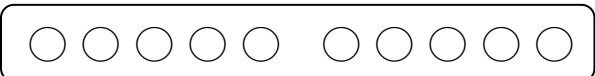
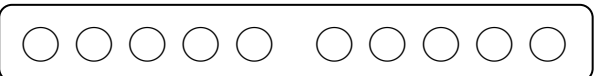

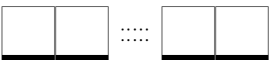

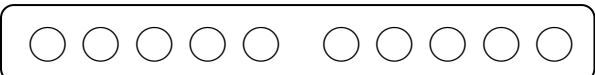
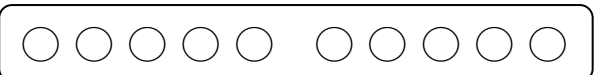

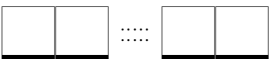

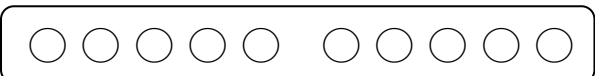
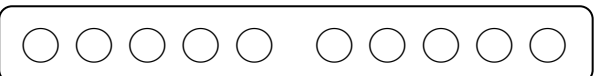

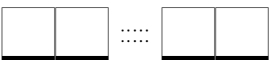

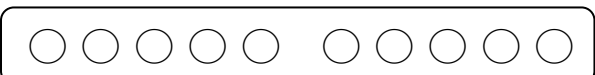
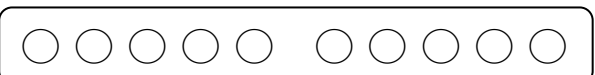



Und noch mehr Platz ...

	+			+		...	
	+			+		...	
	+			+		...	
	+			+		...	
	+			+		...	
	+			+		...	
	+			+		...	
	+			+		...	
	+			+		...	
	+			+		...	

Der Zahlenraum bis 10

– Detektivaufgaben –

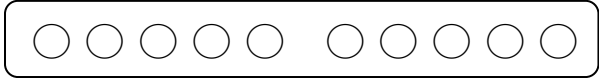
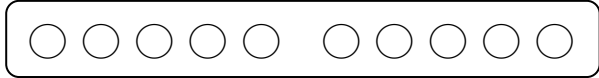




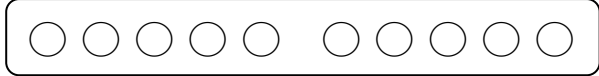



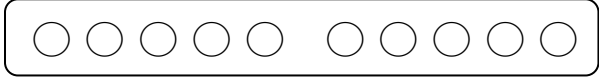
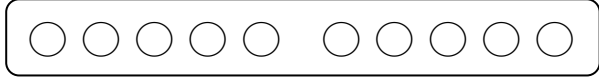



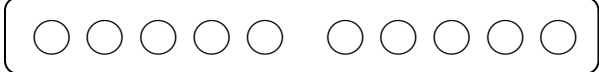
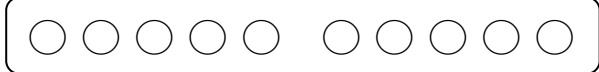


Und mehr ...

	+			+		...	
	+			+		...	
	+			+		...	
	+			+		...	
	+			+		...	
	+			+		...	
	+			+		...	
	+			+		...	
	+			+		...	
	+			+		...	

Der Zahlenraum bis 10

– Detektivaufgaben –

Gleich hast Du es geschafft. Die letzten vier Aufgaben. 😊

	+				+		⋮	
	+				+		⋮	
	+				+		⋮	
	+				+		⋮	